


ZLOMKY


4. ročník



Jak můžeme spravedlivě
rozdělit pizzu dvěma dětem?



Jak můžeme spravedlivě
rozdělit pizzu čtyřem
dětem?



Zápis zlomku

jedna polovina

1

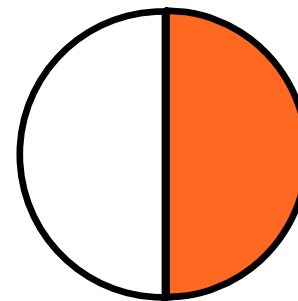
čítatel

—

zlomková čára

2

jmenovatel



Zápis zlomku

jedna čtvrtina

1

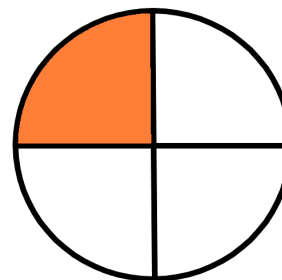
čítatel

—

zlomková čára

4


jmenovatel



Přelož čtverec papíru na polovinu

... ještě znovu na polovinu




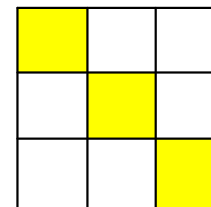
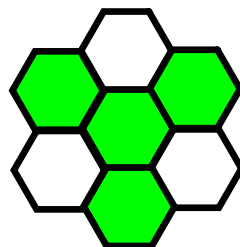
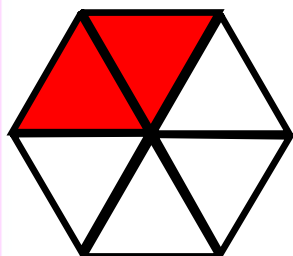

Jaké části z celku vznikají?



Přečti zlomky

$$\begin{array}{r} \frac{1}{2} \quad \frac{1}{3} \quad \frac{1}{4} \quad \frac{1}{5} \quad \frac{1}{6} \quad \frac{1}{8} \\ \frac{2}{3} \quad \frac{3}{4} \quad \frac{2}{5} \quad \frac{3}{6} \quad \frac{4}{8} \quad \frac{2}{2} \end{array}$$

Zapiš zlomkem, jaká část
obrazce je vybarvena





ZLOMKY

4. ročník

