





Počítáme do milionu

Matematika



4. ročník

Procvičíme

-  Čtení čísel do milionu
-  Orientaci v číselné řadě
do milionu s 
-  Slovní úlohy

Přečti čísla

200 006

300 060

350 600


351 626

806 060

860 006

561 163

297 356



V kterém řádu je číslice 6?

200 006

806 060

300 060


860 006

350 600

561 163

651 326

297 365




Počítejte po jedné od

198 990




Počítejte po desítkách od

54 950



Počítejte po stovkách od

16 900



Počítejte po tisících od

397 500



Počítejte po desetitisících od

800 000



Počítejte po statisících od

0



Zamysli se

Kde se v běžném životě
s vyššími čísly do milionu
setkáme?



Řeš slovní úlohy

V soutěži si 3 výherci rozdělili cenu
900 000, - Kč.

Kolik Kč dostal každý z výherců?



Ivanka si koupila ponožky
za 720 000,- Kč. Jany sukně byla
o 200 000,- Kč levnější.

Kolik stála Jany sukně?







Vacíkovi si pořídili nové auto
za 499 000,- Kč. K němu obytný
přívěs za 299 000,- Kč.

Kolik stálo jejich nové auto?



Zvládli jsme

-  Čtení čísel do milionu
-  Orientaci v číselné řadě
do milionu s 
-  Slovní úlohy

Počítáme do milionu

